

Sadhna Syal

TESTE DE INTELIGENȚĂ

Descoperă cât de inteligent este copilul tău

CARTEA 5

Traducere de Iuliana Voicu



BUCUREȘTI, 2020

În jurul lumii



Bifează (✓) răspunsurile corecte.



1. În ce loc al lumii te-ai afla dacă ai vizita Taj Mahalul?

a. Australia

b. Italia

c. India

d. SUA

2. În ce loc al lumii te-ai afla dacă ai vizita Turnul Eiffel?

a. Franța

b. Italia

c. India

d. Anglia



3. În ce loc al lumii te-ai afla dacă ai vizita Statuia Libertății?

a. Alaska

b. New York

c. Washington

d. New Jersey


4. În ce loc al lumii te-ai afla dacă ai vizita Turnul Tokio?

a. Japonia

b. Indonezia

c. China

d. SUA



5. În ce loc al lumii se află clădirea Pentagonului?

a. Brazilia

b. SUA

c. Marea Britanie

d. Franța

6. Unde se află catedrala Sfântul Vasile?

a. Paris

b. Moscova

c. Roma

d. Londra

În jurul lumii



Bifează (✓) răspunsurile corecte.



7. Unde se află Empire State Building?

- | | |
|---------------|---------------|
| a. Londra | b. New York |
| c. Washington | d. New Jersey |



8. Unde se află Arcul de Triumf?

- | | |
|------------|-------------|
| a. Moscova | b. New York |
| c. Paris | d. Londra |



9. În ce loc al lumii te-ai afla dacă ai vizita Turnul din Pisa?

- | | |
|-----------|-----------|
| a. Egipt | b. Italia |
| c. Anglia | d. SUA |




10. În ce loc al lumii te-ai afla dacă ai vizita Cascada Victoria?

- | | |
|------------------|--------------|
| a. Sudul Africii | b. Nepal |
| c. Franța | d. Australia |



11. În ce loc al lumii te-ai afla dacă ai vizita Tower Bridge?

- | | |
|-----------|-----------|
| a. Franța | b. Italia |
| c. Anglia | d. SUA |



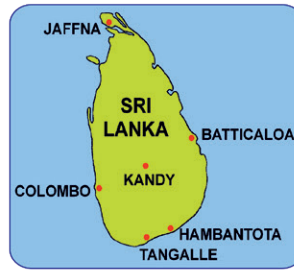
12. În ce loc al lumii te-ai afla dacă ai vizita Muntele Rushmore?

- | | |
|------------------|-------------------|
| a. Dakota de Sud | b. New York |
| c. Washington | d. Dakota de Nord |

Denumiri geografice



Bifează (✓) răspunsurile corecte.



1. Ce oraș este supranumit Orașul Turnurilor de Vis?

- | | |
|-----------|-----------|
| a. Oxford | b. Londra |
| c. Paris | d. Viena |

2. Ce loc este cunoscut ca Arca lui Noe?

- | | |
|---------------|--------------|
| a. Madagascar | b. Sri Lanka |
| c. Mauritius | d. Maldive |



3. În ce loc al lumii se găsesc Munții Albaștri?

- | | |
|--------------|-----------|
| a. Australia | b. India |
| c. Franța | d. Anglia |

4. Ce oraș este cunoscut drept Orașul Zgârie-norilor?

- | | |
|-----------|-------------|
| a. Tokio | b. New York |
| c. Londra | d. Paris |



5. Ce oraș este cunoscut drept Orașul Îngerilor?

- | | |
|----------------|-------------|
| a. Los Angeles | b. New York |
| c. Miami | d. Orleans |

6. Ce țară este cunoscută ca Țara Soarelui de la Miezul Noptii?

- | | |
|-------------|-------------|
| a. Italia | b. Norvegia |
| c. Finlanda | d. Egipt |

Denumiri geografice



Bifează (✓) răspunsul corect.




7. Ce țară este cunoscută ca Țara Prăjiturilor?

- | | |
|-----------|------------|
| a. Scoția | b. Franța |
| c. Suedia | d. Elveția |

8. Ce țară este supranumită Țara Soarelui Răsare?

- | | |
|------------|----------|
| a. Japonia | b. China |
| c. India | d. Nepal |




9. Ce țară din Africa e cunoscută ca Țara cu o Mie de Dealuri?

- | | |
|------------|------------|
| a. Rwanda | b. Ghana |
| c. Algeria | d. Nigeria |

10. Unde se află cel mai înalt vârf muntos, numit și Acoperișul Lumii?

- | | |
|-------------|---------|
| a. Himalaya | b. Alpi |
| c. Carpați | d. Anzi |



11. Ce stat este cunoscut ca Zaharnița Lumii?

- | | |
|--------------|------------|
| a. Peru | b. Cuba |
| c. Argentina | d. Austria |

12. Ce oraș este cunoscut drept Orașul Etern?

- | | |
|----------|------------|
| a. Paris | b. Londra |
| c. Roma | d. Beijing |