

Ioan MĂRCULEȚ
Cătălina MĂRCULEȚ

Geografia continentelor extraeuropene

Fișe de recapitulare pentru clasa a VII-a



BUCUREȘTI, 2023

Lucrarea este destinată elevilor pentru recapitularea și fixarea materiei, în vederea testării secvențiale și a participării lor la concursurile școlare.

Rezolvarea fișelor se va face individual, iar verificarea corectitudinii răspunsurilor se poate realiza pe baza conținuturilor din manualele școlare alternative pentru clasa a VII-a ori sub directă îndrumare a profesorului de la clasă.

Referenți:

Prof. gr. I, drd. Ana-Maria Agape, Colegiul Tehnic „Miron Costin”, Roman

Prof. gr. I Mariana Gherghină, Liceul Teoretic „Constantin Brătescu”, Isaccea

Prof. gr. I Roxana-Emilia Danciu, Liceul Teoretic „Ștefan Odobleja”, București

Redactare: Iuliana Voicu

DTP și coperta: Carmen Diana Mateescu

ISBN: 978-606-009-645-0

Ilustrații și hărți: shutterstock.com

Copyright © 2023 Aramis Print s.r.l. pentru prezenta ediție în limba română.

Toate drepturile rezervate.

Redacția și sediul social:

B-dul Metalurgiei nr. 46-56, cod 041833,

sector 4, București, O.P. 82 – C.P. 38,

tel.: 021.461.08.08; fax: 021.461.08.09;

e-mail: office@edituraaramis.ro

Departamentul desfacere: tel.: 021.461.08.08,

fax: 021.461.08.09; e-mail: desfacere@edituraaramis.ro

www.edituraaramis.ro; www.librariaaramis.ro

CUPRINS

Fișa de lucru nr. 1: Asia – poziția geografică, țărmurile și caracteristicile generale ale reliefului.....	4
Fișa de lucru nr. 2: Asia – hidrografia, clima și învelișul biogeografic	7
Fișa de lucru nr. 3: Asia – populația și așezările umane	11
Fișa de lucru nr. 4: Asia – state și capitale	13
Fișa de lucru nr. 5: Asia – caracterizarea geografică a unor state	15
Fișa de lucru nr. 6: Africa – poziția geografică, țărmurile și caracteristicile generale ale reliefului	17
Fișa de lucru nr. 7: Africa – clima, hidrografia și învelișul biogeografic.....	19
Fișa de lucru nr. 8: Africa – populația și așezările umane	21
Fișa de lucru nr. 9: Africa – state și capitale	22
Fișa de lucru nr. 10: Africa – caracterizarea geografică a unor state	24
Fișa de lucru nr. 11: America – poziția geografică, țărmurile și caracteristicile generale ale reliefului.....	26
Fișa de lucru nr. 12: America – clima, hidrografia și învelișul biogeografic	28
Fișa de lucru nr. 13: America – populația și așezările umane.....	30
Fișa de lucru nr. 14: America – state, capitale, megalopolisuri	31
Fișa de lucru nr. 15: America – caracterizarea geografică a unor state	33
Fișa de lucru nr. 16: Australia – caracterizare fizico-geografică	35
Fișa de lucru nr. 17: Australia – aspecte de geografie umană	37
Fișa de lucru nr. 18: Oceania – particularități geografice	39
Fișa de lucru nr. 19: Antarctica – elemente de identitate geografică	41

Poziția geografică, țărurile și caracteristicile generale ale reliefului

I. Completează spațiile libere din textul de mai jos.

Cu excepția unor insule, Asia, cel mai _____ continent, este situat la _____ de Ecuator. Spre sud, se întinde până la Capul _____, iar spre nord, până la Capul _____. Capul Baba reprezintă punctul extrem _____ al Asiei, iar Capul Dejnev, punctul extrem _____.

Limita sa cu Europa este dată de Munții _____, fluviul Ural, Marea Caspică, Munții _____ și Marea _____.

II. Analizează harta alăturată și scrie:

a. numele mărilor și golfulurilor marcate cu literele:

- A _____
- B _____
- C _____
- D _____
- E _____
- F _____
- G _____
- H _____
- I _____
- J _____
- K _____
- L _____
- M _____
- N _____
- O _____

Asia – mări, golfuluri, peninsule și insule



b. numele peninsulelor marcate cu numerele:

- 1 _____ 2 _____ 3 _____
- 4 _____ 5 _____ 6 _____
- 7 _____ 8 _____

c. numele arhipelagurilor marcate cu literele:

- a _____ b _____ c _____

III. Realizează corespondența între unitățile de relief din listă și arhipelagurile și peninsulele de mai jos.

Listă: Câmpia Mekongului, Munții Asir, Munții Gații de Vest, Munții Taurus, Vulcanul Fuji, Vulcanul Kliucev (Ključev), Vulcanul Krakatoa, Vulcanul Pinatubo.

- Arh. Filipine = _____
- Arh. Japonez = _____
- Arh. Indonezian = _____
- Pen. Arabia = _____

Pen. Asia Mică = _____

Pen. Kamceatka = _____

Pen. India = _____

Pen. Indochina = _____

IV. Explică prezența vulcanilor activi și latenți în estul și sud-estul Asiei (Tambora, Sakura, Klicev ș.a.).

V. Analizează harta alăturată și scrie numele unităților de relief marcate cu numerele:

1 _____

2 _____

3 _____

4 _____

5 _____

6 _____

7 _____

8 _____

9 _____

10 _____

11 _____

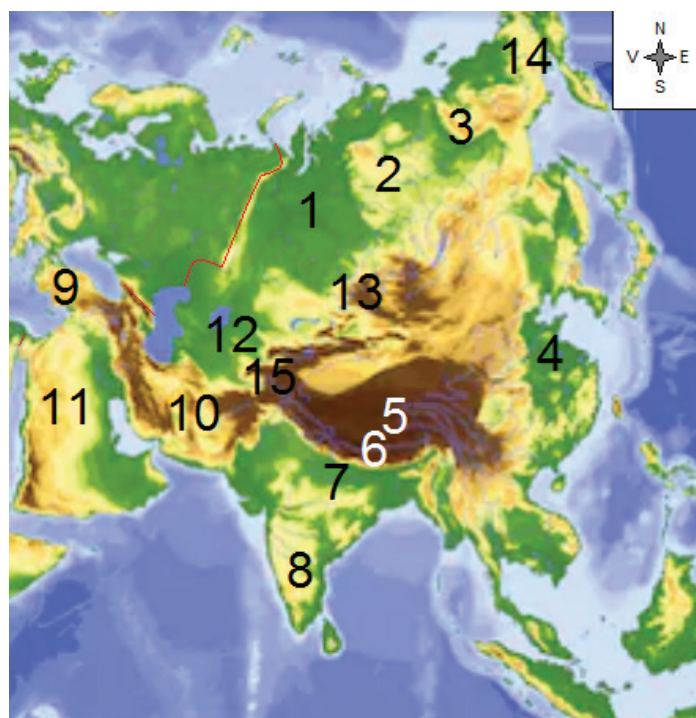
12 _____

13 _____

14 _____

15 _____

Asia – unități de relief



VI. Încercuiește litera corespunzătoare răspunsului corect pentru fiecare dintre afirmațiile de mai jos.

1. Capul Celiuskin este situat în Peninsula ...

a. Ciukotsk.

b. Coreea.

c. Taimîr.

2. Insula Hainan este situată în Marea ...

a. Chinei de Est.

b. Chinei de Sud.

c. Galbenă.

3. Scutul Siberian (Angara) ocupă ...

a. nord-estul Asiei.

b. nord-vestul Asiei.

c. sudul Asiei.

4. Placa Arabă se deplasează spre ...

a. nord-est.

b. nord-vest.

c. sud-est.

5. Insula Kalimantan (Borneo) face parte din Arhipelagul ...

a. Filipine.

b. Indonezian.

c. Japonez.

6. Înălțimea vârfului Chomolungma (Everest) este de circa ...

a. 8 750 m.

b. 8 850 m.

c. 8 950 m.

7. Munții din nord-estul Asiei sunt ...

a. foarte vechi.

b. tineri.

c. vechi.

8. Din categoria munților vechi fac parte ...
 a. Munții Altai. b. Munții Karakorum. c. Munții Zagros.
9. Relieful cu dune este caracteristic Peninsulei ...
 a. Arabia. b. Coreea. c. Malacca.
10. Podișul Siberiei Centrale este situat între fluviile ...
 a. Amur și Lena. b. Enisei și Lena. c. Enisei și Obi.
11. Ca formă de relief, Deșertul Gobi este ...
 a. o câmpie. b. un munte. c. un podiș.
12. La nord-vest de Golful Persic se află Câmpia ...
 a. Mesopotamiei. b. Siberiei de Nord. c. Turanului.
13. La est de Câmpia Mesopotamiei se află Munții ...
 a. Ararat. b. Caucaz. c. Zagros.
14. Deșertul Taklamakan este situat între ...
 a. Deșertul Karakum și Podișul Pamir. b. Munții Altai și Munții Saian. c. Munții Kunlun și Munții Tian Shan.
15. La sud de fluviul Amur se află Munții ...
 a. Cerski. b. Hinganul Mare. c. Saian.

VII. Precizează valoarea de adevăr – adevărat (**A**) sau fals (**F**) – pentru afirmațiile de mai jos.

A / F

1. Munții Himalaya s-au înălțat în orogeneza alpină.
2. Câmpia Siberiei de Vest este joasă și mlăștinoasă.
3. Munții Himalaya au rezultat în urma coliziunii plăcilor Indo-Australiană și Eurasiatică.
4. Munții Altai sunt situați în nord-estul Asiei.
5. Cea mai joasă altitudine din Asia este la Marea Moartă.
6. Everest este cel mai înalt vârf din Munții Himalaya.
7. Ghețarii din regiunile înalte ale Munților Himalaya au determinat prezența vulcanilor activi.
8. Munții Verhoiansk sunt situați la vest de fluviul Lena.
9. Deșertul Rub al-Khali este situat în Peninsula Asia Mică.
10. Gura de vărsare a fluviului Obi este de tip estuar.

VIII. Elaborează un text geografic, de șapte-opt rânduri, referitor referitor la relieful Asiei, în care să utilizezi toți termenii din lista de mai jos.

Listă: delte, Deșertul Gobi, dune, loess, munți vechi, orogeneza alpină, relief vulcanic și Scutul Chinez.

Hidrografia, clima și învelișul biogeografic

I. Scrie:

a. ce sunt regiunile exoreice și endoreice;

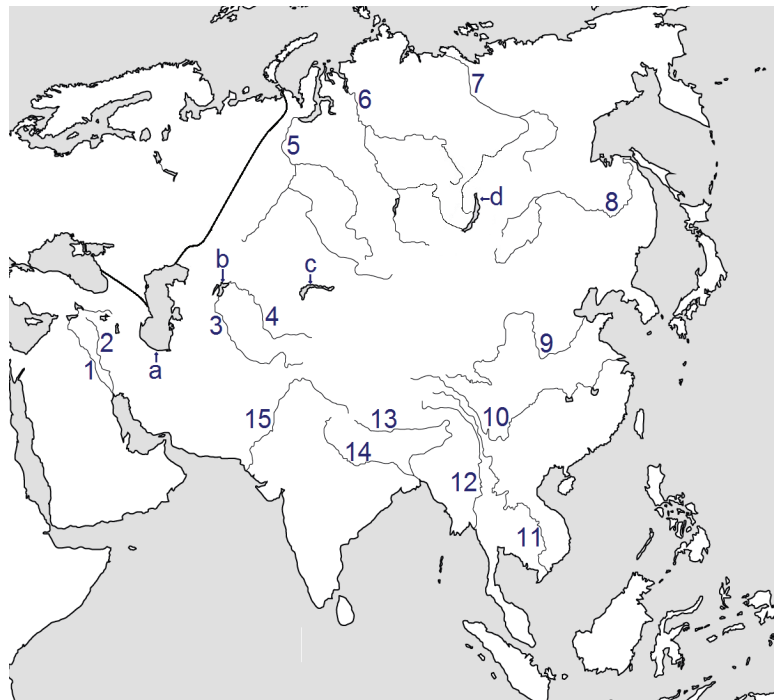
b. trei mari regiuni endoreice prezente pe teritoriul Asiei.

II. Analizează harta și scrie:

a. numele cursurilor de apă marcate cu numerele:

- 1 _____
- 2 _____
- 3 _____
- 4 _____
- 5 _____
- 6 _____
- 7 _____
- 8 _____
- 9 _____
- 10 _____
- 11 _____
- 12 _____
- 13 _____
- 14 _____
- 15 _____

Asia – fluvii și lacuri



b. numele lacurilor marcate cu literele a, b, c și d și originile lor:

- a _____ b _____
- c _____ d _____

III. Realizează corespondența între apele curgătoare (A) și mările în care se varsă (B).

A

1. Chang Jiang
2. Enisei
3. Huang He
4. Irrawaddy
5. Lena
6. Mekong

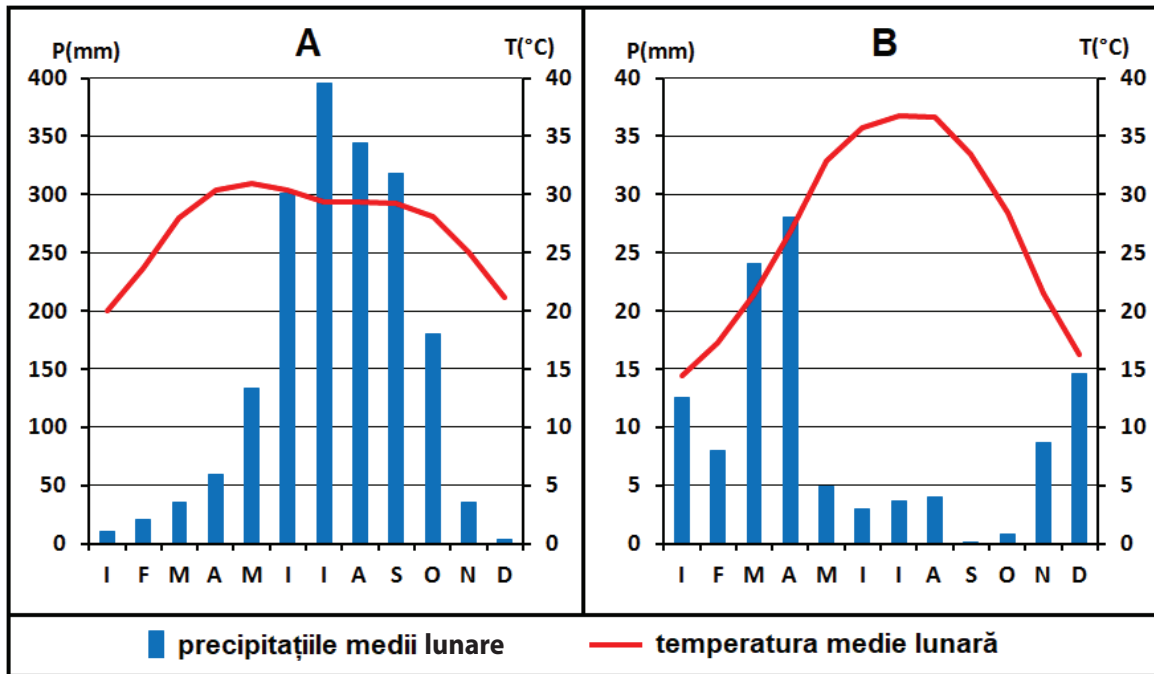
B

- a. Andaman
- b. Arabiei
- c. Chinei de Est
- d. Chinei de Sud
- e. Galbenă
- f. Kara
- g. Laptev

IV. În lista de mai jos sunt numele a zece fluvii din Asia. Subliniază-le cu o linie pe cele care formează la gurile de vărsare delte și cu două linii pe cele care se varsă prin estuare.

Listă: Amur, Chang Jiang, Enisei, Gange, Huang He, Indus, Irrawaddy, Lena, Mekong, Obi.

V. Pe cele două diagrame sunt redată evoluțiile precipitațiilor și temperaturilor medii lunare la două stații meteorologice din Asia.



Analizează diagramele și scrie:

a. anotimpul în care se înregistrează cele mai mari cantități de precipitații la stația marcată cu A;

b. anotimpul în care se înregistrează cele mai mari cantități de precipitații la stația marcată cu B;

c. valoarea temperaturii maxime și luna în care se înregistrează la stația meteorologică marcată cu A;

d. valoarea temperaturii maxime și luna în care se înregistrează la stația meteorologică marcată cu B;

e. tipurile de climă redată de cele două diagrame.

VI. Scrie:

a. doi factori naturali care influențează clima Asiei;

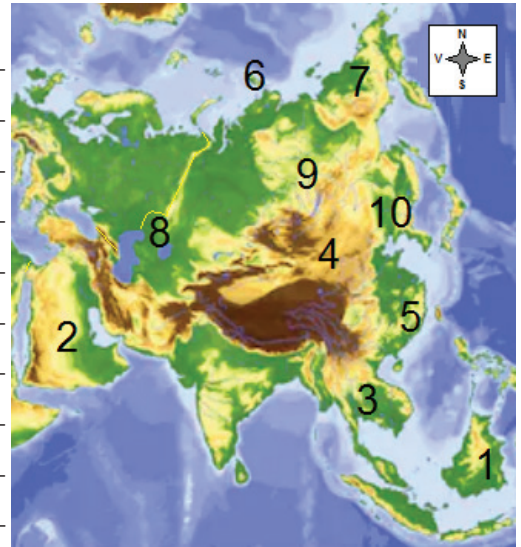
b. influența exercitată de climă asupra hidrografiei și zonelor biogeografice din Asia.

VII. Analizează harta și scrie:

a. numele tipurilor de climă din regiunile marcate cu numerele:

- 1 _____
- 2 _____
- 3 _____
- 4 _____
- 5 _____
- 6 _____
- 7 _____
- 8 _____
- 9 _____
- 10 _____

Asia – harta fizico-geografică



b. numele zonelor biogeografice din regiunile marcate cu numerele:

- | | |
|---------|----------|
| 1 _____ | 2 _____ |
| 3 _____ | 4 _____ |
| 5 _____ | 6 _____ |
| 7 _____ | 8 _____ |
| 9 _____ | 10 _____ |

c. scrie:

– două deosebiri între tipul de climă marcat cu numărul 1 și tipul de climă marcat cu numărul 2.

– două deosebiri între tipul de climă marcat cu numărul 3 și tipul de climă marcat cu numărul 6;

– două deosebiri între tipul de climă marcat cu numărul 8 și tipul de climă marcat cu numărul 10.


VIII. Precizează valoarea de adevăr – adevărat (**A**) sau fals (**F**) – pentru afirmațiile de mai jos.

A / F

1. Păiușul și colilia sunt specii caracteristice pădurii ecuatoriale.
2. Chang Jiang este cel mai lung curs de apă din Asia.
3. Lacul Biwa este de origine tectonică.
4. În semideșerturile temperate din Asia trăiește cămila bactriană.
5. Rinocerul indian este adaptat zonei de savană.
6. În sud-vestul Peninsulei Asia Mică sunt condiții favorabile vegetației subtropicale.
7. Ierburile mărunte sunt specifice tundrei.
8. Ursul polar este adaptat condițiilor climatice din sudul Asiei.
9. La Oimiakon s-a înregistrat temperatura minimă absolută de $-71,2^{\circ}\text{C}$.
10. Musonul de vară este umed.
11. Hermelina și samurul trăiesc în taigaua siberiană.
12. Localitatea Cherrapunji este considerată „polii ploii pe glob”.
13. Shatt al-Arab se formează prin unirea râurilor Tigru și Eufrat.
14. Suprafața Lacului Aral se află într-o continuă extindere.
15. Dromaderul este neadaptat condițiilor climatice din Peninsula Arabia.

<input type="checkbox"/>	<input type="checkbox"/>
<input type="checkbox"/>	<input type="checkbox"/>
<input type="checkbox"/>	<input type="checkbox"/>
<input type="checkbox"/>	<input type="checkbox"/>
<input type="checkbox"/>	<input type="checkbox"/>
<input type="checkbox"/>	<input type="checkbox"/>
<input type="checkbox"/>	<input type="checkbox"/>
<input type="checkbox"/>	<input type="checkbox"/>
<input type="checkbox"/>	<input type="checkbox"/>
<input type="checkbox"/>	<input type="checkbox"/>
<input type="checkbox"/>	<input type="checkbox"/>
<input type="checkbox"/>	<input type="checkbox"/>
<input type="checkbox"/>	<input type="checkbox"/>
<input type="checkbox"/>	<input type="checkbox"/>
<input type="checkbox"/>	<input type="checkbox"/>

IX. Imaginile de mai jos redau două zone biogeografice. Analizează-le cu atenție și completează pentru fiecare în tabel.



Caracteristici	Imaginea A	Imaginea B
Zona biogeografică		
Clima specifică zonei		
O caracteristică a vegetației		
Două specii de animale caracteristice		
Un tip de sol		

Populația și așezările umane

I. Scrie patru factori care determină răspândirea inegală a populației în Asia.

II. Stabilește dacă afirmațiile de mai jos sunt adevărate (A) sau false (B).

A / F

- | | | |
|---|--------------------------|--------------------------|
| 1. Asia deține în prezent peste jumătate din populația globului. | <input type="checkbox"/> | <input type="checkbox"/> |
| 2. Câmpia Mesopotamiei a fost leagănul unor importante civilizații antice. | <input type="checkbox"/> | <input type="checkbox"/> |
| 3. Peninsula Arabia se confruntă cu fenomenul de suprapopulare. | <input type="checkbox"/> | <input type="checkbox"/> |
| 4. Conflictul armat din Siria s-a soldat cu imigrarea unei părți din populația țării. | <input type="checkbox"/> | <input type="checkbox"/> |
| 5. Statul cu cei mai numeroși locuitori din Asia este India. | <input type="checkbox"/> | <input type="checkbox"/> |
| 6. Sentinelezii sunt membrii ultimului trib preneolitic din lume. | <input type="checkbox"/> | <input type="checkbox"/> |
| 7. Neneții trăiesc în nord-vestul Siberiei. | <input type="checkbox"/> | <input type="checkbox"/> |
| 8. Ainu sunt băștinașii din Arhipelagul Indonezian. | <input type="checkbox"/> | <input type="checkbox"/> |
| 9. Majoritatea locuitorilor din Bangladesh aparțin grupei rasiale indoneziano-malaeziană. | <input type="checkbox"/> | <input type="checkbox"/> |
| 10. Coreenii aparțin rasei cauzaziene. | <input type="checkbox"/> | <input type="checkbox"/> |
| 11. Limba armeană aparține familiei sino-tibetană. | <input type="checkbox"/> | <input type="checkbox"/> |
| 12. Iudaismul este mai frecvent în China. | <input type="checkbox"/> | <input type="checkbox"/> |
| 13. Cartea sfântă a islamului este Coranul. | <input type="checkbox"/> | <input type="checkbox"/> |
| 14. Șamanismul este practicat de unele populații din nordul Asiei. | <input type="checkbox"/> | <input type="checkbox"/> |
| 15. Casele pe piloni sunt răspândite în regiunile asiatice cu inundații frecvente. | <input type="checkbox"/> | <input type="checkbox"/> |
| 16. Izba este o colibă din pâslă. | <input type="checkbox"/> | <input type="checkbox"/> |
| 17. Istanbul este un oraș situat pe două continente: Asia și Africa. | <input type="checkbox"/> | <input type="checkbox"/> |
| 18. Tokio este cel mai mare oraș din Asia. | <input type="checkbox"/> | <input type="checkbox"/> |
| 19. Shanghai este cel mai populat oraș din Coreea de Sud. | <input type="checkbox"/> | <input type="checkbox"/> |
| 20. Megalopolisul Tokaido este situat în sud-estul Chinei. | <input type="checkbox"/> | <input type="checkbox"/> |

III. Încercuiește litera corespunzătoare răspunsului corect pentru fiecare dintre afirmațiile de mai jos.

- | | | | | |
|--|---------------------|-----------------------------|-----------------------------|----------------------|
| 1. O regiune foarte populată este ... | a. Câmpia Gangelui. | b. Câmpia Siberiei de Vest. | c. Câmpia Siberiei de Nord. | d. Câmpia Turanului. |
| 2. Cea mai mică densitate a populației se găsește în ... | a. Coreea de Sud. | b. Myanmar. | c. Kazahstan. | d. Vietnam. |
| 3. Marea diversitate etnică este caracteristică ... | a. Japoniei. | b. Indiei. | c. Israelului. | d. Mongoliei. |
| 4. Limba care aparține familiei semito-hamitice este ... | a. araba. | b. afgana. | c. mongola. | d. rusa. |
| 5. Shintoismul este o credință etnică în ... | a. Japonia. | b. Laos. | c. Mongolia. | d. Sri Lanka. |

6. Locuințele săpate în rocă din Kandovan (Iran) se numesc...

- a. gasshā-zukuri. b. iurte. c. izbe. d. karaan.

7. Așezarea antică, considerată capitala a trei religii este orașul ...

- a. Ierusalim. b. Istanbul. c. Lhasa. d. Mecca.

8. Moscheea este caracteristică ...

- a. budismului. b. creștinismului. c. islamismului. d. iudaismului.

9. Burj Khalifa este un zgârie-nori din ...

- a. Arabia Saudită. b. Emiratele Arabe Unite c. Singapore. d. Turcia.

10. Baiyoke Tower II este cea mai înaltă clădire din ...

- a. China. b. India. c. Japonia. d. Thailanda.

IV. Observă imaginile și scrie:

a. pentru imaginea marcată cu A:

- cum se numește tipul de lăcaș de cult;

A



- adepții cărei religii folosesc acest lăcaș de cult;

- două țări în care această religie este dominantă.

b. pentru imaginea marcată cu B:

- cum se numește tipul de adăpost;

B



- regiunea geografică asiatică în care este prezent;

- o țară în care nomazii folosesc astfel de adăposturi.

c. pentru imaginea marcată cu C:

- cum se numește tipul de casă;

C



- regiunea geografică asiatică în care este prezentă;

- o țară asiatică în care acest tip de casă este foarte frecvent.

d. pentru imaginea marcată cu D:

- cum se numește tipul de lăcaș de cult;

D



- adepții cărei religii folosesc acest tip lăcaș de cult;

- două țări în care locuitorii practică această religie.

State și capitale

I. Completează spațiile libere din textul de mai jos.

Cel mai întins stat din Asia este _____, iar cel mai populat, _____.

Trei țări asiatice au teritorii în Europa – Federația Rusă, _____ (la vest de fluviul Ural) și _____ (în Peninsula Balcanică) – și o țară africană ocupă un mic teritoriu în Asia: _____ (în Peninsula Sinai).

Cele mai recente modificări produse pe harta politică a Asiei au fost: includerea în cadrul Chinei a teritoriilor dependente denumite _____ (în anul 1997) și _____ (în 1999) și proclamarea independenței a _____ (în 2002).

II. Scrie statele din listă, în ordinea poziției geografice, de la est la vest.

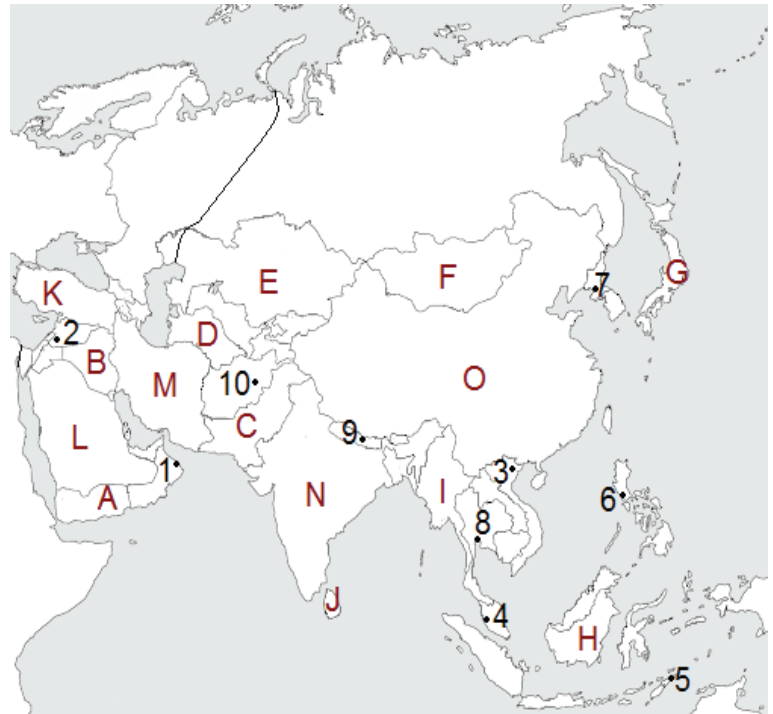
Listă: Afganistan, China, Coreea de Sud, India, Iran, Japonia, Pakistan, Turcia.

III. Analizează harta alăturată și scrie:

a. numele statelor marcate cu literele:

- A _____
- B _____
- C _____
- D _____
- E _____
- F _____
- G _____
- H _____
- I _____
- J _____
- K _____
- L _____
- M _____
- N _____
- O _____

Asia – harta politică



b. numele orașelor-capitală marcate cu numerele:

- | | |
|---------|----------|
| 1 _____ | 2 _____ |
| 3 _____ | 4 _____ |
| 5 _____ | 6 _____ |
| 7 _____ | 8 _____ |
| 9 _____ | 10 _____ |

IV. Completează, cu statele din listă, tabelul de mai jos.

Listă: Azerbaidjan, Bahrain, Brunei, Coreea de Nord, Emiratele Arabe Unite, Kârgâzstan, Laos, Maldive, Nepal, Tadjikistan, Timorul de Est, Yemen.

State fără ieșire la mare	State peninsulare	State insulare
_____	_____	_____
_____	_____	_____
_____	_____	_____

V. Analizează statele din lista de mai jos și subliniază cu o linie republicile și cu două linii monarhiile.

Listă: Arabia Saudită, Armenia, Cambodgia, Bahrain, Bhutan, Brunei, Emiratele Arabe Unite, Filipine, Georgia, India, Iordania, Israel, Japonia, Kuwait, Laos, Malaysia, Mongolia, Oman, Qatar, Siria, Sri Lanka, Thailanda, Turcia, Turkmenistan, Vietnam, Yemen.

VI. Realizează corespondența între state (**A**) și orașele-capitală (**B**).

A	B
1. Bangladesh	a. Beirut
2. Bhutan	b. Dacca
3. Liban	c. Malé
4. Maldive	d. Naypyidaw
5. Myanmar	e. Seul
6. Uzbekistan	f. Tașkent
	g. Thimphu

VII. Scrie orașul-capitală compus din următoarele litere:

- | | |
|-----------------------|----------------------|
| 1. REVEAN = _____ | 6. MAMAN = _____ |
| 2. SIALMABAD = _____ | 7. EIBIJNG = _____ |
| 3. EHTREAN = _____ | 8. THMKAANDU = _____ |
| 4. RUN-USLTAN = _____ | 9. KAAJTRA = _____ |
| 5. KTOIO = _____ | 10. KANRA = _____ |

VIII. Completează afirmațiile de mai jos cu informațiile corecte.

1. Statul Uzbekistan se învecinează la nord cu _____.
2. Țara din Asia cu ieșire la Golful Aden se numește _____.
3. Nahicevan este un teritoriu ce aparține statului numit _____.
4. Mongolia are capitala la _____.
5. Insulele Andaman aparțin statului numit _____.

IX. Precizează valoarea de adevăr – adevărat (**A**) sau fals (**F**) – pentru afirmațiile de mai jos.

1. Capitala statului Israel este orașul Tel Aviv.
2. Al doilea stat din Asia ca număr de locuitori este India.
3. Bahrain este un stat situat în Golful Bengal.
4. Statul Bhutan este situat între China și Bangladesh.
5. Orașul Bandar Seri Begawan este capitala statului Brunei.

A / F

<input type="checkbox"/>	<input type="checkbox"/>
<input type="checkbox"/>	<input type="checkbox"/>
<input type="checkbox"/>	<input type="checkbox"/>
<input type="checkbox"/>	<input type="checkbox"/>
<input type="checkbox"/>	<input type="checkbox"/>

Caracterizarea geografică a unor state

I. Analizează harta alăturată și scrie:

a. numele oceanului și mărilor marcate cu numerele:

1 _____ 2 _____

3 _____ 4 _____

b. numele insulelor marcate cu literele:

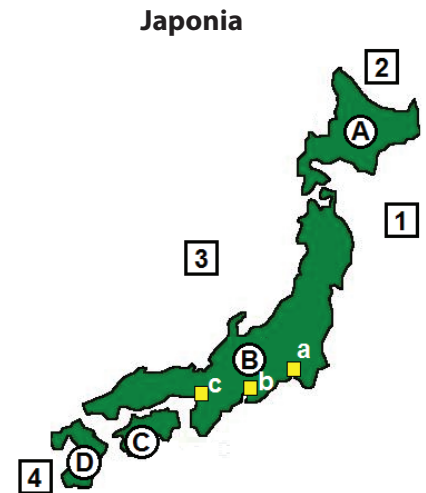
A _____ B _____

C _____ D _____

c. numele orașelor marcate cu literele:

a _____ b _____

c _____



II. Caracterizează geografic China, încercuind litera corespunzătoare răspunsului corect.

• După forma de guvernământ, China este o ...

- a. monarhie constituțională. b. republică parlamentară. c. republică populară.

• La vest, China se învecinează cu statul numit ...

- a. Coreea de Nord. b. Kârgâzstan. c. Myanmar.

• Pe un sector, fluviul Amur este granița Chinei cu ...

- a. Laos. b. Kazahstan. c. Federația Rusă.

• În regiunea Munților Himalaya, China se învecinează cu statul ...

- a. Nepal. b. Pakistan. c. Vietnam.

• În anul 1997 a intrat în componența Chinei ...

- a. Hong Kongul. b. Macao. c. Taiwanul.

• În nord-estul Chinei se află Munții ...

- a. Hinganul Mic. b. Kunlun. c. Qin Ling.

• La nord de Munții Himalaya se află ...

- a. Bazinul Sichuan. b. Podișul Tibet. c. Podișul Yunnan.

• În est, clima Chinei este ...

- a. subtropicală, cu ploi de iarnă. b. subtropicală, cu ploi de vară. c. temperat-continentală excesivă.

• Fluviul Chang Jiang (Yangtze) formează la gura de vărsare ...

- a. o deltă. b. un estuar. c. un liman.

• Qinghai este un lac cu originea ...

- a. artificială. b. tectonică. c. vulcanică.

• Marele canal chinez leagă fluviul Huang He de fluviul ...

- a. Amur. b. Chang Jiang. c. Lancang Jiang (Mekong).

• Orașul Wuhan este situat pe fluviul ...

- a. Chang Jiang. b. Huang He. c. Xi Jiang.

• Cel mai mare oraș din China este ...

- a. Guangzhou. b. Hong Kong. c. Shanghai.

III. Caracterizează geografic India, precizând valoarea de adevăr – adevărat (**A**) sau fals (**F**) – pentru afirmațiile de mai jos.

A / F

1. India este o țară federală.
2. Capitala Indiei este orașul Delhi.
3. La nord-vest, India se învecinează cu statul Pakistan.
4. Prin Podișul Deccan curge râul Godavari.
5. Fluviul Indus este cea mai importantă apă curgătoare din India.
6. După numărul de locuitori, India este al treilea stat din lume.
7. Orașul Mumbai se află situat pe coasta litorală estică a Peninsulei India.
8. Chennai (Madras) este o metropolă pe Coasta Coromandel.

<input type="checkbox"/>	<input type="checkbox"/>
<input type="checkbox"/>	<input type="checkbox"/>
<input type="checkbox"/>	<input type="checkbox"/>
<input type="checkbox"/>	<input type="checkbox"/>
<input type="checkbox"/>	<input type="checkbox"/>
<input type="checkbox"/>	<input type="checkbox"/>
<input type="checkbox"/>	<input type="checkbox"/>
<input type="checkbox"/>	<input type="checkbox"/>

IV. Pentru caracterizarea geografică a Turciei, scrie:

1. tipul de stat după poziția geografică a teritoriului: _____;
2. peninsulele în care se întinde teritoriul țării: _____;
3. mările la care are ieșire, după cum urmează:
 - la nord: _____;
 - la nord-vest: _____;
 - la sud: _____;
4. câte doi vecini din:
 - Asia: _____;
 - Europa: _____;
5. patru unități de relief: _____;
6. două tipuri de climă: _____;
7. trei ape curgătoare: _____;
8. două lacuri și originile lor: _____;
9. trei tipuri de vegetație: _____;
10. forma de guvernământ: _____;
11. orașul-capitală: _____;
12. cinci orașe, după cum urmează:
 - un oraș-port la Marea Neagră: _____;
 - orașul situat atât în Europa, cât și în Asia: _____;
 - cel mai mare oraș-port la Marea Egee: _____;
 - un oraș-stațiune turistică din sud (la Marea Mediterană): _____;
 - actualul nume al vechiului oraș Adrianopol: _____;
13. trei plante cultivate: _____;
14. două regiuni turistice: _____.

V. Explică următoarele situații:

- Japonia, deși dispune de resurse naturale limitate, este una dintre cele mai dezvoltate țări de pe glob;

- China, deși ocupă primul loc în lume după numărul de locuitori, în partea vestică este foarte slab populată.

Poziția geografică, țărmurile și caracteristicile generale ale reliefului

I. Completează spațiile libere din textul de mai jos.

Africa are o dispunere simetrică față de _____, desfășurându-se în latitudine în ambele _____ (_____ și sudică).

Punctele sale extreme sunt: Ras ben Sakka (la _____), Capul _____ (la sud), Capul Ras Hafun (la _____) și Capul _____ (la _____).

Țărmul african este destul de monoton, cu doar câteva _____ (Guineei ș.a.), _____ (Somalia) și insule (_____, cea mai întinsă).

În anul 1869, prin inaugurarea Canalului _____, Africa a fost separată printr-o cale navigabilă de Peninsula _____.

II. Analizează harta alăturată și scrie:

a. numele oceanelor marcate cu literele:

A _____ B _____

b. numele mărilor marcate cu numerele:

1 _____ 2 _____

c. numele golfulor marcate cu numerele:

3 _____ 4 _____

d. numele strâmtorilor marcate cu numerele:

5 _____ 6 _____

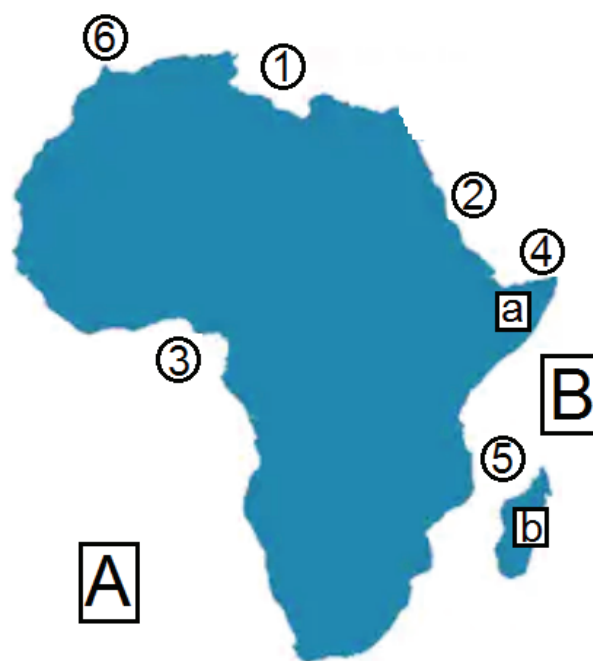
e. numele peninsulei marcate cu litera a;

• _____

f. numele insulei marcate cu litera b.

• _____

Africa – oceane, mări, țărmuri



III. Pentru poziționarea geografică a unor insule, precizează valoarea de adevăr – adevărat (A) sau fals (F) – pentru afirmațiile de mai jos.

1. Insula Mauritius este situată la vest de Insula Madagascar.

 A F

2. Insula Reunion este situată în Oceanul Atlantic.

 A F

3. Insulele Seychelles sunt situate la nord de Insula Madagascar.

 A F

4. Insula São Tomé este situată în Golful Aden.

 A F

5. Insulele Canare sunt situate în Marea Mediterană.

 A F

6. Insulele Capului Verde sunt situate în Oceanul Atlantic.

 A F

IV. Elaborează un text geografic, de șapte-opt rânduri, referitor la Marele Rift African, în care să utilizezi toți termenii din lista de mai jos.

Listă: activitate vulcanică, curenți magmatici, lacuri tectonice, Placa Africană, rift, scoarța terestră, „Triunghiul” Afar.

V. Analizează harta alăturată și scrie:

a. numele unităților montane marcate cu literele:

A _____ B _____
 C _____ D _____
 E _____ F _____
 G _____

b. numele podișurilor marcate cu literele:

H _____ I _____
 J _____ K _____

c. numele depresiunilor marcate cu numerele:

1 _____ 2 _____
 3 _____ 4 _____
 5 _____

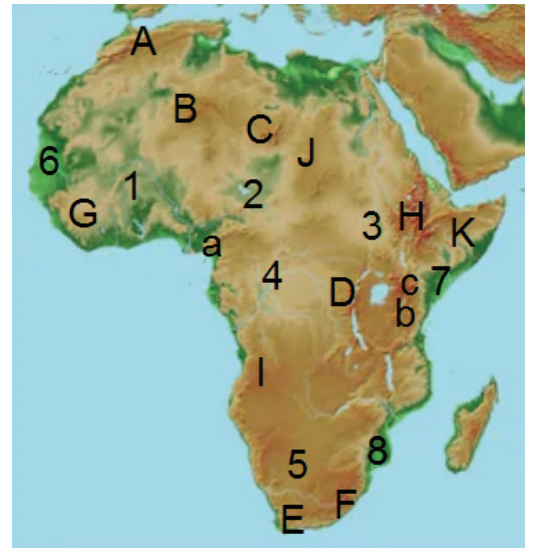
d. numele câmpiilor marcate cu numerele:

6 _____ 7 _____ 8 _____

e. numele vulcanilor marcați cu literele:

a _____ b _____ c _____

Africa – unități de relief



VI. Încercuiește litera corespunzătoare răspunsului corect pentru afirmațiile de mai jos.

- Peste 60% din suprafața Africii este ocupată de:
 - a. câmpii.
 - b. munți.
 - c. podișuri.
- Cea mai mare altitudine din Africa este în Munții:
 - a. Kenia.
 - b. Kilimanjaro.
 - c. Ruwenzori.
- S-au format datorită mișcărilor verticale ale scoarței, Munții:
 - a. Atlas.
 - b. Capului.
 - c. Scorpiei.
- Cel mai întins podiș din Africa se numește:
 - a. Podișul Abisiniei (Etiopiei).
 - b. Podișul Bihé.
 - c. Podișul Sahara.
- Câmpurile cu dune din Sahara se numesc:
 - a. erguri.
 - b. hamade.
 - c. reguri.
- Depresiunea Okavango este situată la nord de Depresiunea:
 - a. Bahr-el-Gazal.
 - b. Congo.
 - c. Kalahari.
- Din categoria munților formați prin încrețire fac parte:
 - a. Munții Capului.
 - b. Munții Kenia.
 - c. Munții Virunga.
- Podișul Karroo este situat în:
 - a. estul Africii.
 - b. sudul Africii.
 - c. vestul Africii.

Clima, hidrografia și învelișul biogeografic

I. Explică:

a. de ce Africa este cel mai cald continent (cu cele mai ridicate temperaturi medii lunare);

b. de ce zonele biogeografice din Africa au dispunerea aproape simetrică;

c. cum influențează clima repartiția și caracteristicile apelor de suprafață din Africa.

II. Analizează harta și scrie:

a. numele tipurilor de climă marcate, la legendă, cu numerele:

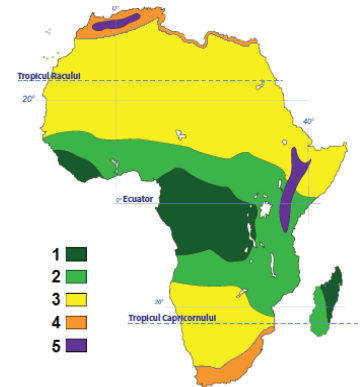
1 _____ 2 _____

3 _____ 4 _____

5 _____

b. două deosebiri între tipul de climă marcat, pe hartă, cu numărul 1 și tipul de climă marcat, pe hartă, cu numărul 2.

Africa – tipurile de climă



III. Analizează diagrama climatică alăturată și scrie:

a. valoarea temperaturii minime și luna în care se produce;

• _____

b. cantitatea cea mai mare de precipitații și luna în care se înregistrează;

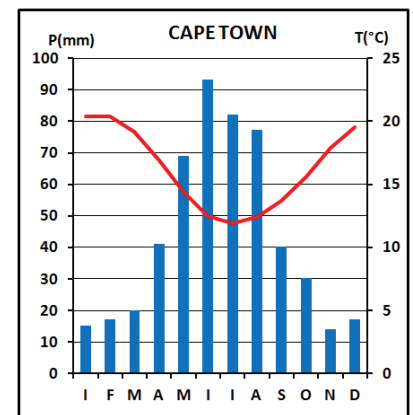
• _____

c. tipul de climă redat de diagramă;

• _____

d. de ce în intervalul iunie-august se înregistrează cele mai scăzute valori ale temperaturilor.

• _____



IV. Observă imaginea alăturată și scrie:

a. tipul de climă caracteristic acestui mediu geografic;

• _____

b. un factor genetic al acestui tip de climă;

• _____

c. două caracteristici ale tipului de climă.

• _____

• _____



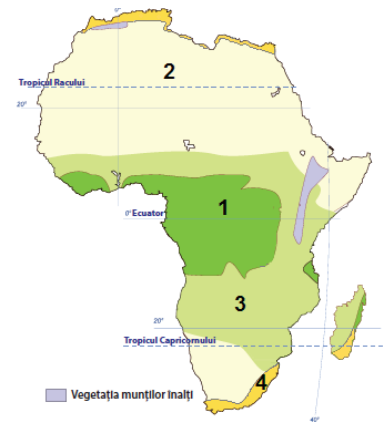
V. Analizează harta de mai jos și scrie numele zonelor de vegetație marcate cu numerele:

1 _____ 2 _____

3 _____ 4 _____

VI. Explică prezența unor regiuni endoreice și areice în Africa.

Africa – zonele de vegetație



VII. Analizează harta alăturată și scrie:

a. numele apelor curgătoare marcate cu numerele:

1 _____ 2 _____

3 _____ 4 _____

5 _____ 6 _____

7 _____ 8 _____

b. numele lacurilor marcate cu literele:

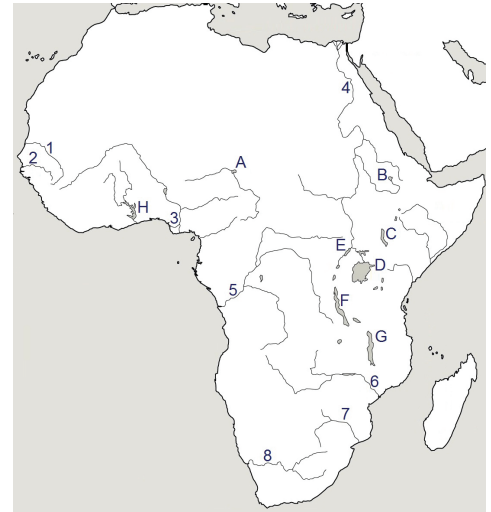
A _____ B _____

C _____ D _____

E _____ F _____

G _____ H _____

Africa – apele curgătoare și lacurile



VIII. Observă imaginea alăturată și scrie:

a. zona biogeografică redată;

• _____

b. o caracteristică a vegetației din această zonă;

• _____

c. două specii de plante caracteristice zonei;

• _____

d. două specii de animale din această zonă biogeografică, altele decât cele din imagine.

• _____



Populația și așezările umane

I. Scrie:

a. doi factori care au favorizat creșterea numerică a populației din Africa în ultimii 50 de ani;

b. trei factori care determină răspândirea inegală a populației în Africa și rolul acestora;

c. trei regiuni geografice din Africa în care densitatea populației este mai mare decât densitatea medie a continentului (cca 45 loc./km²);

d. patru regiuni geografice din Africa în care densitatea populației este mai mică decât media continentală (cca 45 loc./km²);

e. două cauze care să explice gradul scăzut de alfabetizare din Africa.

II. Stabilește dacă afirmațiile de mai jos sunt adevărate (A) sau false (B).

1. Masaii vorbesc o limbă nilo-sahariană.
2. Berberii trăiesc în sudul Africii.
3. Araba se vorbește în statele din nordul Africii.
4. Pigmeii locuiesc în savană.
5. Boșimanii populează Peninsula Somalia.
6. Tuaregii sunt nomazi în Sahara.
7. Religia islamică este dominată în țările din nordul Africii.
8. Creștinii sunt majoritari în țările din sud-estul Africii.
9. Locuitorii din Insula Madagascar vorbesc o limbă malgașă.
10. Populația urbană din Africa depășește 50% din populația totală a continentului.
11. Satele de tip kraal sunt caracteristice populației berbero-arabe din Africa.
12. Cel mai mare oraș din Africa este Cairo.

A / F

<input type="checkbox"/>	<input type="checkbox"/>
<input type="checkbox"/>	<input type="checkbox"/>
<input type="checkbox"/>	<input type="checkbox"/>
<input type="checkbox"/>	<input type="checkbox"/>
<input type="checkbox"/>	<input type="checkbox"/>
<input type="checkbox"/>	<input type="checkbox"/>
<input type="checkbox"/>	<input type="checkbox"/>
<input type="checkbox"/>	<input type="checkbox"/>
<input type="checkbox"/>	<input type="checkbox"/>
<input type="checkbox"/>	<input type="checkbox"/>
<input type="checkbox"/>	<input type="checkbox"/>
<input type="checkbox"/>	<input type="checkbox"/>

III. Elaborează un text geografic de cinci-șase rânduri, referitor la așezările umane din Africa, în care să utilizezi toți termenii din lista de mai jos.

Listă: Africa Centrală, Alexandria, cartiere sărace, colibe, Dar es Salam, exod rural, Lagos, populația neagră.

VII. Realizează corespondența între state (**A**) și orașele-capitală (**B**).

A	B
1. Botswana	a. Accra
2. Camerun	b. Dakar
3. Ghana	c. Dodoma
4. Mozambic	d. Gaborone
5. Senegal	e. Juba
6. Tanzania	f. Maputo
	g. Praia
	h. Yaounde

VIII. Scrie capitalele statelor de mai jos.

- | | |
|-----------------------|---------------------------|
| 1. Algeria = _____ | 6. Burundi = _____ |
| 2. Etiopia = _____ | 7. Libia = _____ |
| 3. Madagascar = _____ | 8. Niger = _____ |
| 4. Sudan = _____ | 9. Sudanul de Sud = _____ |
| 5. Tunisia = _____ | 10. Zimbabwe = _____ |

IX. Încercuiește litera corespunzătoare răspunsului corect pentru fiecare dintre afirmațiile de mai jos.

• Statul cu teritoriul alungit de la nord la sud se numește:

- a. Gambia. b. Togo. c. Uganda.

• Țara transcontinentală din Africa se numește:

- a. Djibouti. b. Egipt. c. Eritreea.

• Din categoria statelor cu forma teritoriului compactă, face parte:

- a. Côte d'Ivoire. b. Malawi. c. Somalia.

• Statul Gabon este situat în:

- a. Africa Centrală. b. Africa de Est. c. Africa de Sud.

• Statul cu forma de guvernământ monarhie se numește:

- a. Camerun. b. Angola. c. Maroc.

• Cabo Verde (Rep. Capului Verde) este un stat:

- a. fără ieșire la mare. b. insular. c. peninsular.

• Face parte din categoria statelor sahariene:

- a. Ciad. b. Namibia. c. Tanzania.

• Capitala Angolei este orașul:

- a. Antananarivo. b. Lilongwe. c. Luanda.

• Statul fără ieșire la Oceanul Planetar se numește:

- a. Eritreea. b. Malawi. c. Sahara Occidentală.

• Lusaka este capitala statului numit:

- a. Burkina Faso. b. Mali. c. Zambia.

Caracterizarea geografică a unor state

I. Analizează harta alăturată (Egipt) și scrie:

a. numele mărilor marcate cu literele:

X _____ Y _____

b. numele deșerturilor marcate cu literele:

A _____ B _____

C _____ D _____

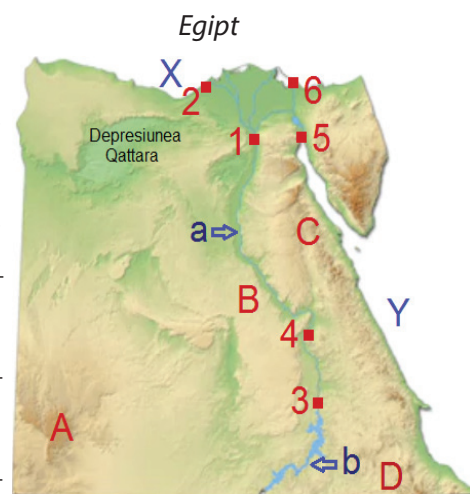
c. numele fluviului marcat cu litera a:

d. numele lacului marcat cu litera b:

e. numele orașelor marcate cu numerele:

1 _____ 2 _____ 3 _____

4 _____ 5 _____ 6 _____



II. Precizează valoarea de adevăr – adevărat (A) sau fals (F) – pentru afirmațiile de mai jos.

A / F

1. Egiptul este o monarhie constituțională.
2. Egiptul se învecinează la vest cu Algeria.
3. Muntele Sfânta Ecaterina (Jebel Katerina) se află în sudul Peninsulei Sinai.
4. Adâncimea Depresiunii Qattara coboară sub nivelul mării.
5. În nordul Egiptului, clima este subecuatorială.
6. Nilul pătrunde pe teritoriul Egiptului pe la granița cu Sudanul de Sud.
7. Nilul formează la gura de vărsare un estuar.
8. Portul Ismailia se află la Canalul Suez.
9. Majoritatea populației din Egipt este de confesiune creștină.
10. Marea Piramidă și Sfinxul se găsesc la Giza (Gizeh).

<input type="checkbox"/>	<input type="checkbox"/>
<input type="checkbox"/>	<input type="checkbox"/>
<input type="checkbox"/>	<input type="checkbox"/>
<input type="checkbox"/>	<input type="checkbox"/>
<input type="checkbox"/>	<input type="checkbox"/>
<input type="checkbox"/>	<input type="checkbox"/>
<input type="checkbox"/>	<input type="checkbox"/>
<input type="checkbox"/>	<input type="checkbox"/>
<input type="checkbox"/>	<input type="checkbox"/>
<input type="checkbox"/>	<input type="checkbox"/>

III. Caracterizează geografic Republica Democrată Congo, precizând:

1. poziția geografică în cadrul continentului: _____;

2. patru țări vecine: _____;

3. oceanul la care are acces: _____;

4. trei unități de relief: _____;

5. două tipuri de climă: _____;

6. o apă curgătoare: _____;

7. trei lacuri și originile lor: _____;

8. două tipuri de vegetație: _____;

9. tipul de republică: _____;

10. orașul-capitală: _____;

11. două grupuri etnice: _____;

12. principala ramură economică: _____.

IV. Caracterizează geografic Republica Africa de Sud, încercuind litera corespunzătoare răspunsului corect pentru fiecare dintre afirmațiile de mai jos.

- În nord, Africa de Sud se învecinează cu ...
 - Botswana.
 - Eswatini.
 - Mozambic.
- Statul enclavă din Africa de Sud se numește ...
 - Eswatini.
 - Lesotho.
 - Namibia.
- În sud-estul Africii de Sud se află ...
 - Depresiunea Kalahari.
 - Munții Scorpiei.
 - Podișul Karroo.
- În nordul Africii de Sud clima este ...
 - subecuatorială.
 - subtropicală.
 - tropicală.
- Prin Africa de Sud curge ...
 - Congo.
 - Orange.
 - Zambezi.
- Capitala administrativă a Africii de Sud este orașul ...
 - Bloemfontein.
 - Cape Town.
 - Pretoria.
- Orașul-port la Oceanul Indian se numește ...
 - Durban.
 - Johannesburg.
 - Soweto.
- Parcul Național Kruger este situat la granița cu țara numită ...
 - Botswana.
 - Mozambic.
 - Namibia.

V. Analizează harta alăturată (Nigeria) și scrie:

a. numele golfului marcat cu numărul 1:

b. numele țărilor vecine marcate cu literele:

A _____ B _____

C _____ D _____

c. numele unităților de relief marcate cu numerele:

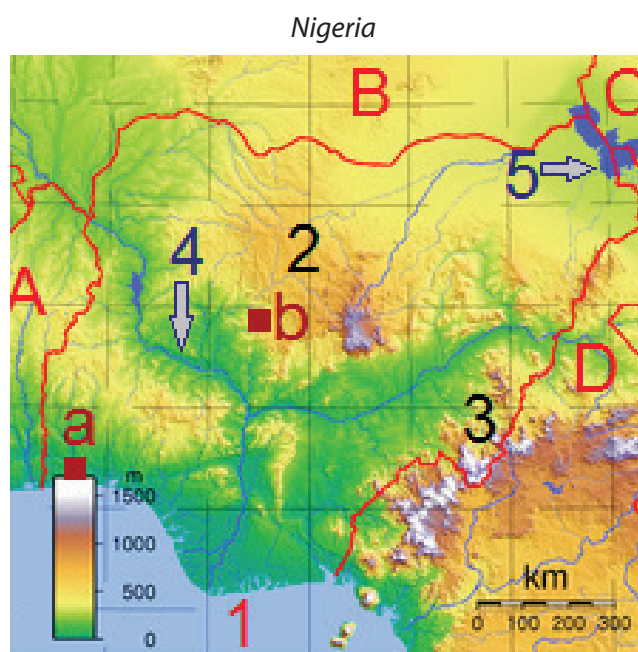
2 _____ 3 _____

d. numele fluviului marcat cu numărul 4:

e. numele lacului marcat cu numărul 5:

f. numele orașelor marcate cu literele:

a _____ b _____



VI. Scrie răspunsurile corecte care completează propozițiile de mai jos.

- Etiopia se află situată în Africa de _____.
- După forma de guvernământ, Etiopia este o _____.
- O parte din teritoriul Etiopiei se întinde în Peninsula _____.
- Principala formă majoră de relief din Etiopia este _____.
- Capitala Etiopiei este orașul _____.
- Satele caracteristice Etiopiei se numesc _____.

Poziția geografică, țărurile și caracteristicile generale ale reliefului

I. Completează spațiile libere din textul de mai jos.

Longitudinal, America este situată în totalitate în emisfera _____. Se întinde între Promontoriul Murchison (Peninsula _____), la nord, Capul _____, la sud, Capul _____, la est, și Capul _____ (din Peninsula _____), la vest.

Uscatul este compus din două continente: America de _____, până la Istmul _____, și America de _____, între Istmul _____ și Strâmtoarea Magellan. Cele două mase continentale sunt legate de America _____, formată dintr-o parte istmică și una _____ (arhipelagurile Antilele Mari și Antilele Mici).

II. Analizează harta alăturată și scrie:

a. numele oceanelor marcate cu literele:

A _____ B _____

C _____

b. numele mărilor marcate cu literele:

a _____ b _____

c _____ d _____

e _____

c. numele golfulurilor marcate cu literele:

f _____ g _____

h _____ i _____

d. numele peninsulelor marcate cu numerele:

1 _____ 2 _____

3 _____ 4 _____

5 _____ 6 _____

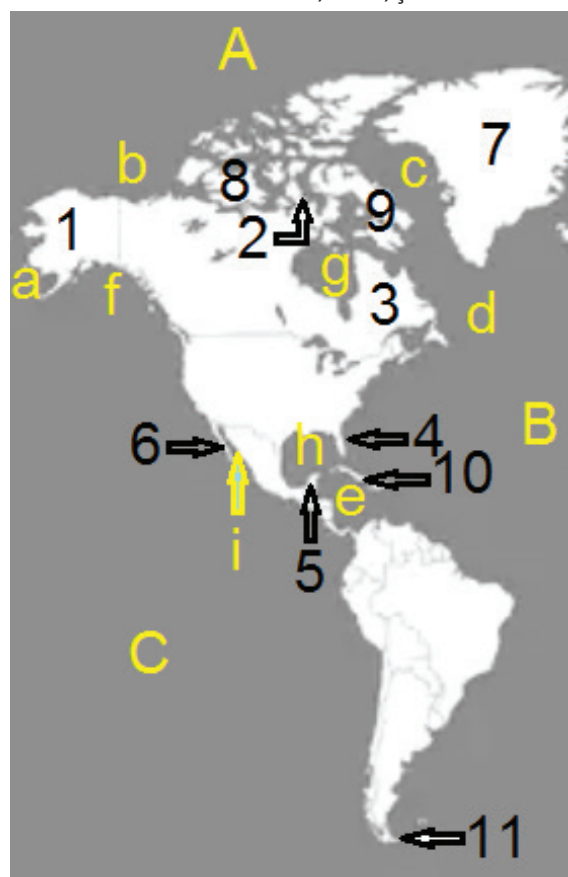
e. numele insulelor marcate cu numerele:

7 _____ 8 _____

9 _____ 10 _____

11 _____

America – oceane, mări, țăruri



III. Scrie numele geografic care corespunde elementelor de mai jos:

1. Oceanul Pacific, Strâmtoarea Magellan, *ocean* = _____

2. Marea (Golful) Baffin, Strâmtoarea Davis, *mare* = _____

3. America de Sud, *strâmtoare*, Arhipelagul Țara de Foc = _____

4. Oceanul Atlantic, Strâmtoarea Drake, *ocean* = _____

IV. Analizează harta de mai jos (America – unități de relief; pag. 27) și scrie:

a. numele munților marcați cu literele:

A _____ B _____ C _____

D _____ E _____ F _____

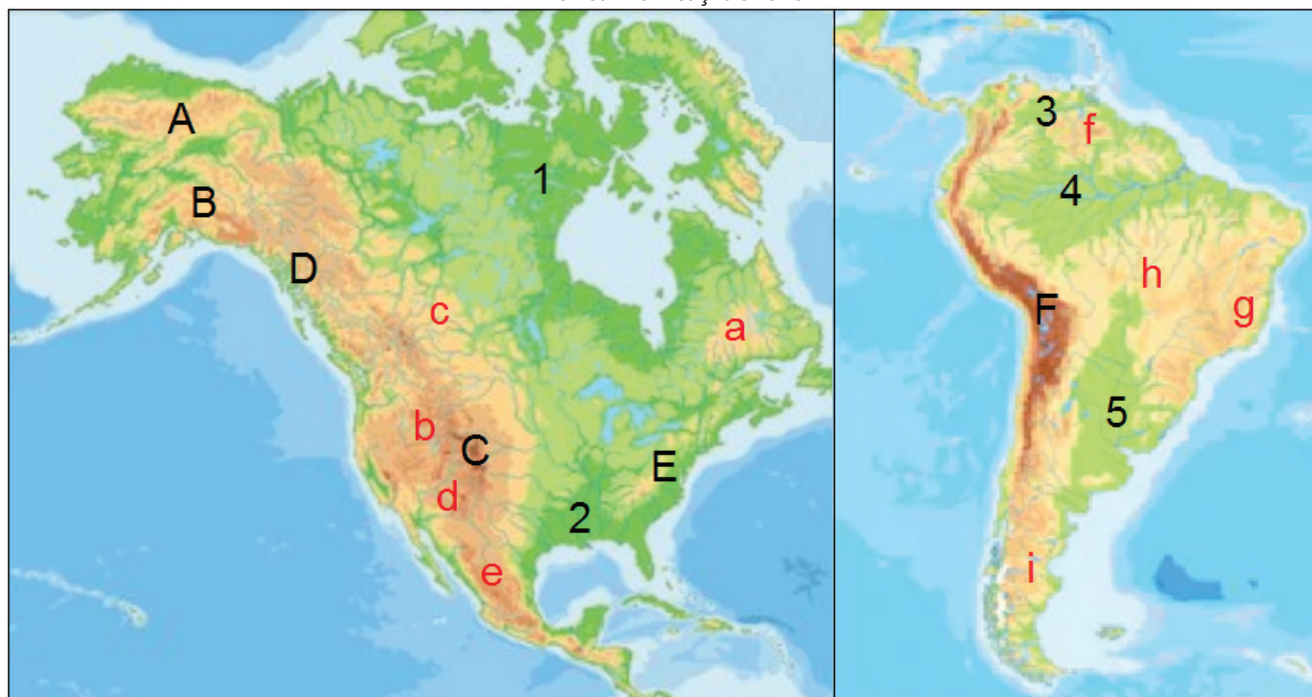
b. numele podișurilor marcate cu literele:

a _____ b _____ c _____
 d _____ e _____ f _____
 g _____ h _____ i _____

c. numele câmpiilor marcate cu cifrele:

1 _____ 2 _____ 3 _____
 4 _____ 5 _____

America – unități de relief



V. Stabilește dacă afirmațiile de mai jos sunt adevărate (A) sau false (F):

1. Placa Nord-Americană se află în coliziune cu Placa Nazca.
2. Munții Apalași (Appalachi) sunt munți vechi puternic erodați.
3. Podișul Columbia este încorporat în Cordilierii Nord-Americani.
4. Cotopaxi este un vulcan activ.
5. McKinley este cel mai înalt vârf din America.

A / F

<input type="checkbox"/>	<input type="checkbox"/>
<input type="checkbox"/>	<input type="checkbox"/>
<input type="checkbox"/>	<input type="checkbox"/>
<input type="checkbox"/>	<input type="checkbox"/>
<input type="checkbox"/>	<input type="checkbox"/>

VI. Elaborează un text geografic, de cinci-șase rânduri, referitor la „Sistemul muntos cordiliero-andin”, în care să utilizezi toți termenii din lista de mai jos.

Listă: Aconcagua, orogeneza alpină, Munții Anzi, Munții Mackenzie, plăci tectonice, Popocatépetl.

Clima, hidrografia și învelișul biogeografic

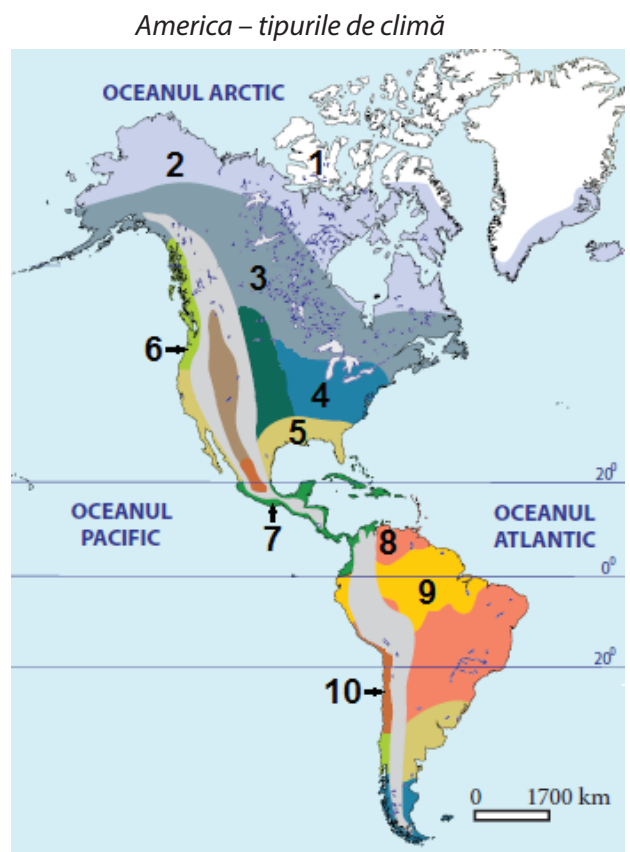
I. Explică:

– prezența pe continentul american a tuturor zonelor de climă;

– cum influențează curenții oceanici clima din America și exemplifică.

II. Analizează harta alăturată și scrie numele tipurilor de climă marcate cu numerele:

- 1 _____
- 2 _____
- 3 _____
- 4 _____
- 5 _____
- 6 _____
- 7 _____
- 8 _____
- 9 _____
- 10 _____

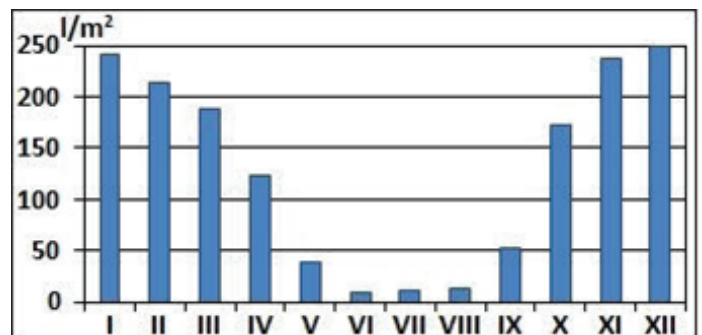


III. Explică prezența climatului temperat-continental arid în Podișul Marelui Bazin.

IV. Analizează graficul de mai jos și stabilește valoarea de adevăr a următoarelor afirmații (A – adevărat, F – fals).

- A / F**
- 1. Clima redată de grafic este ecuatorială. A / F
 - 2. Cele mai ridicate cantități de precipitații cad în intervalul octombrie-ianuarie. A / F
 - 3. Cantitatea de 123 l/m² cade în luna octombrie. A / F
 - 4. Cele mai reduse cantități de precipitații cad în luna iulie. A / F
 - 5. În intervalul cu precipitații reduse bat vânturile alizee. A / F

Regimul precipitațiilor medii lunare în Podișul Braziliei



V. Analizează hărțile de mai jos (America de Nord și Centrală – hidrografia și America de Sud – hidrografia) și scrie:

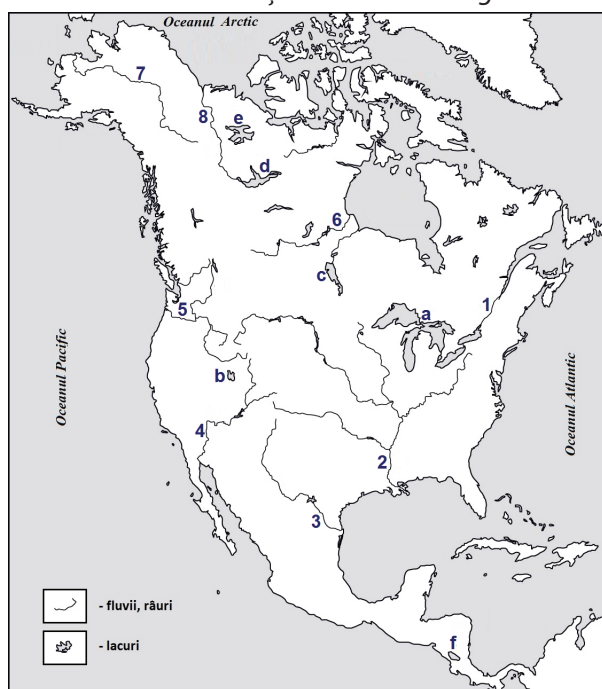
a. numele apelor curgătoare marcate cu numerele:

- 1 _____ 2 _____ 3 _____
 4 _____ 5 _____ 6 _____
 7 _____ 8 _____ 9 _____
 10 _____ 11 _____ 12 _____
 13 _____ 14 _____ 15 _____

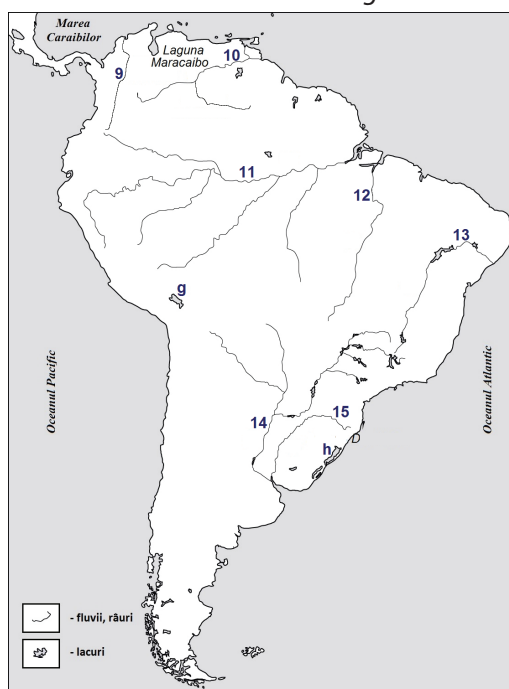
b. numele lacurilor marcate cu literele:

- a _____ b _____ c _____
 d _____ e _____ f _____
 g _____ h _____

America de Nord și Centrală – hidrografia



America de Sud – hidrografia



VI. Elaborează un text geografic, de șapte-opt rânduri, referitor la vegetația și fauna Americii, în care să valorifici toți termenii din lista de mai jos.

Listă: bradul Douglas, caribu, condor, nandu, pampas, Podișul Patagoniei, Podișul Braziliei, prerie, selvas, tundră, ursul polar și ursul negru.

Populația și așezările umane

I. Scrie:

a. patru factori care determină răspândirea inegală a populației în America;

b. patru regiuni geografice din America în care densitatea populației este mai mare de 25 loc./km²;

c. patru regiuni geografice din America în care densitatea populației este mai mică de 25 loc./km²;

II. Stabilește dacă afirmațiile de mai jos sunt adevărate (A) sau false (B).

1. Primele grupuri de oameni au ajuns în America în urmă cu cca 40 000 de ani din Africa.

A	F
<input type="checkbox"/>	<input type="checkbox"/>

2. Popularea treptată a continentului american s-a făcut de la sud la nord.

<input type="checkbox"/>	<input type="checkbox"/>
--------------------------	--------------------------

3. Băștinașii din aproape întreaga Americă au fost numiți amerindieni.

<input type="checkbox"/>	<input type="checkbox"/>
--------------------------	--------------------------

4. Inuiții (eschimoșii) locuiesc în Arhipelagul Arctic Canadian.

<input type="checkbox"/>	<input type="checkbox"/>
--------------------------	--------------------------

5. Metișii au rezultat din amestecul negrilor cu amerindienii.

<input type="checkbox"/>	<input type="checkbox"/>
--------------------------	--------------------------

6. Din amestecul albilor cu amerindienii au rezultat locuitorii zambos.

<input type="checkbox"/>	<input type="checkbox"/>
--------------------------	--------------------------

7. O mare parte a populației afro-americane este urmașa negrilor folosiți ca sclavi.

<input type="checkbox"/>	<input type="checkbox"/>
--------------------------	--------------------------

8. Locuitorii afro-americani sunt mai numeroși în America Centrală Insulară.

<input type="checkbox"/>	<input type="checkbox"/>
--------------------------	--------------------------

9. America de Sud este încadrată cultural în America Anglo-Saxonă.

<input type="checkbox"/>	<input type="checkbox"/>
--------------------------	--------------------------

10. Majoritatea populației din America Latină este de confesiune catolică.

<input type="checkbox"/>	<input type="checkbox"/>
--------------------------	--------------------------

11. În Statele Unite ale Americi și Canada predomină cultele protestante.

<input type="checkbox"/>	<input type="checkbox"/>
--------------------------	--------------------------

12. Mexic este cel mai populat stat din America de Nord.

<input type="checkbox"/>	<input type="checkbox"/>
--------------------------	--------------------------

13. Argentina este cel mai populat stat din America de Sud.

<input type="checkbox"/>	<input type="checkbox"/>
--------------------------	--------------------------

14. Columbia este o țară latino-americană.

<input type="checkbox"/>	<input type="checkbox"/>
--------------------------	--------------------------

III. Elaborează un text geografic, de șapte-opt rânduri, referitor la așezările umane din America, în care să utilizezi toți termenii din lista de mai jos.

Listă: barrios, bazinul Amazonului, colibe, ferme, iglu, inuiți, metropole, populație urbană, wigwam și zgârie-nori.

State, capitale, megalopolisuri

I. Completează spațiile libere din textul de mai jos, referitor la America.

În America sunt 35 de state: 3 în _____, _____ în America Centrală și _____ în America de Sud.

Majoritatea statelor din America au deschidere la Oceanul Planetar. Fac excepție _____ și Bolivia, din America de _____.

După forma de guvernământ, _____ țări sunt _____ și 9 sunt _____. Cel mai întins stat-monarhie este _____, iar cea mai mare republică, _____.

II. Folosește harta alăturată (America – harta politică și lingvistică) și completează tabelul de mai jos.

Nr.	Numele statului	Limba oficială
1		
2		
3		
4		
5		
6		
7		
8		
9		
10		

America – harta politică și lingvistică



III. Observă harta America Centrală istmică – harta politică și scrie în tabelul de mai jos:

Nr.	Numele statului	Limba oficială
1		
2		
3		
4		
5		
6		
7		

America Centrală istmică – harta politică



IV. Elaborează un text geografic, de șapte-opt rânduri, referitor la harta politică a Americii de Sud, în care să utilizezi toți termenii din lista de mai jos.

Listă: America Latină, Ecuador, Franța, republică, state andine, state atlantice, teritoriu dependent și Uruguay.

V. Realizează corespondența între state (**A**) și orașele-capitală (**B**).

A	B
1. Costa Rica	a. Havana
2. Cuba	b. Kingston
3. Haiti	c. Lima
4. Honduras	d. Ottawa
5. Jamaica	e. Panama
6. Perú	f. Port-au-Prince
	g. San Jose
	h. Tegucigalpa

VI. Încercuiește litera corespunzătoare răspunsului corect pentru fiecare dintre afirmațiile de mai jos.

- Forma de guvernământ a statului Antigua și Barbuda este:
 - monarhia constituțională.
 - republica parlamentară.
 - republica prezidențială.
- Limba oficială a statului Belize este:
 - engleza.
 - franceza.
 - spaniola.
- Capitala situată la cea mai mare altitudine este:
 - Belmopan.
 - La Paz.
 - Lima.
- Capitala situată aproape de Ecuador se numește:
 - Bogota.
 - Brasília.
 - Quito.
- Orașul Port-of-Spain este capitala statului numit:
 - Antigua și Barbuda.
 - Republica Dominicană.
 - Trinidad-Tobago.

VII. Caracterizează megalopolisurile din America, completând în tabelul de mai jos.

Caracteristici	Boswash	Marilor Lacuri	De pe coasta Pacificului	Brazilian
poziția geografică				
statul în care se află				
doi factori care au determinat formarea acestora				
două orașe-metropolă				

c. forma de guvernământ, șeful statului și forma de organizare internă;

d. principala cale navigabilă fluvială a țării.

IV. Analizează harta de alăturată (Brazilia) și scrie:

a. numele țărilor vecine marcate cu literele:

A _____ B _____

C _____ D _____

E _____

b. numele unităților de relief marcate cu literele:

a _____ b _____

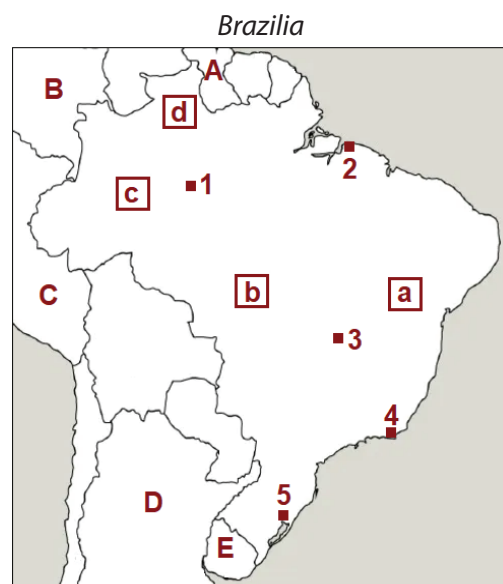
c _____ d _____

c. numele orașelor marcate cu numerele:

1 _____ 2 _____

3 _____ 4 _____

5 _____



d. litera cu care este marcată țara care are în comun cu Brazilia fluviul Amazon: _____

e. numărul orașului situat cel mai aproape de Venezuela: _____

V. Stabilește valoarea de adevăr a următoarelor afirmații (A – adevărat, F – fals).

- | | A / F |
|--|---|
| 1. Argentina este stat federal. | <input type="checkbox"/> / <input type="checkbox"/> |
| 2. Teritoriul Argentinei se întinde de-a lungul meridianelor. | <input type="checkbox"/> / <input type="checkbox"/> |
| 3. Arhipelagul Țara de Foc aparține în întregime Argentinei. | <input type="checkbox"/> / <input type="checkbox"/> |
| 4. Fluviul Uruguay reprezintă un sector din granița Argentinei cu Brazilia. | <input type="checkbox"/> / <input type="checkbox"/> |
| 5. La vest, Argentina are deschidere la Oceanul Atlantic. | <input type="checkbox"/> / <input type="checkbox"/> |
| 6. La est, relieful Argentinei este muntos. | <input type="checkbox"/> / <input type="checkbox"/> |
| 7. Podișul Patagoniei este situat în partea sudică a Argentinei. | <input type="checkbox"/> / <input type="checkbox"/> |
| 8. Pe teritoriul Argentinei se află Vârful Aconcagua, cel mai înalt din America de Sud. | <input type="checkbox"/> / <input type="checkbox"/> |
| 9. Peste 60% din populația Argentinei este de origine italiană. | <input type="checkbox"/> / <input type="checkbox"/> |
| 10. Orașul Rosario este situat în Câmpia La Plata. | <input type="checkbox"/> / <input type="checkbox"/> |
| 11. La Plata este un oraș-port în Argentina. | <input type="checkbox"/> / <input type="checkbox"/> |
| 12. În Argentina se găsește cel mai sudic oraș din lume, Ushuaia. | <input type="checkbox"/> / <input type="checkbox"/> |
| 13. Magistrala feroviară Buenos Aires – Valparaiso (Chile) traversează de la nord la sud Munții Anzi. | <input type="checkbox"/> / <input type="checkbox"/> |
| 14. Argentina este printre cei mai mari exportatori din lume de produse agricole (cereale, carne, lână). | <input type="checkbox"/> / <input type="checkbox"/> |
| 15. Ghețarul Perito Moreno, importantă atracție turistică, este situat la granița Argentinei cu Uruguayul. | <input type="checkbox"/> / <input type="checkbox"/> |

IV. Completează, pentru Australia, tabelul de mai jos cu tipurile de climă și zonele biogeografice din listă.

Listă: deșert și semideșert (cu scrub); climă subecuatorială și tropicală umedă; climă subtropicală; climă temperat-oceanică moderată; climă tropicală aridă (tropicală uscată); păduri subtropicale; păduri temperate; păduri tropicale și savane.

Poziția geografică	Tipul/tipurile de climă	Zona/zonle biogeografice
Nordul și nord-estul continentului		
Zona cuprinsă între 20 și 32° latitudine sudică		
Sudul continentului		
Insula Tasmania		

V. Observă imaginile de mai jos – care redau unele specii de animale din Australia (în ordine alfabetică: diavolul tasmanian, dragon-bărbos, echidna, koala, varanul de nisip) – și completează în tabel, având în vedere următoarele zone biogeografice: deșert, pădure subtropicală, pădure temperată, pădure tropicală, scrub.


Specii de animale



1



2



3



4



5

Nr. imagine	Numele speciei redată în imagine	Zona biogeografică în care trăiește
1		
2		
3		
4		
5		

VI. Elaborează un text cu conținut geografic, de nouă-zece rânduri, referitor învelișul biogeografic din Australia, în care să utilizezi toți termenii din lista de mai jos.

Listă: câinele dingo, crocodilul de apă sărată, emu, eucalipti, ornitorincul, savană, scrub, semideșert, specii dispărute și specii endemice.

Aspecte de geografie umană

I. Explică...

– ... de ce Australia este continentul cu cei mai puțini locuitori și cu cea mai mică densitate a populației;

– ... ponderea redusă a populației aborigene (cca. 3%);

– ... faptul că Australia este printre cele mai dezvoltate state ale lumii;

– ... faptul că Australia are foarte bine dezvoltat transportul aerian;

– ... faptul că densitatea transporturilor terestre din Australia este mai mare la sud de Tropicul Capricornului.

II. Elaborează un text cu conținut geografic, de opt-zece rânduri, referitor la Australia, în care să utilizezi toți termenii din lista de mai jos.

Listă: aborigeni, cca 3 loc./km², colonie penală, coloniști britanici, continent-stat, federație, mediul urban, metale prețioase, partea centrală, regiuni inospitaliere, sud-est și Sydney Cove.

III. Observă harta alăturată (Australia – principalele orașe) și scrie numele orașelor marcate cu numerele:

- | | |
|---------|---------|
| 1 _____ | 2 _____ |
| 3 _____ | 4 _____ |
| 5 _____ | 6 _____ |
| 7 _____ | 8 _____ |



Australia – principalele orașe

IV. Analizează harta alăturată (Australia – diviziuni administrative) și scrie numele statelor (provinciilor) marcate cu numerele:

- 1 _____
- 2 _____
- 3 _____
- 4 _____
- 5 _____
- 6 _____

Australia – diviziuni teritoriale



V. Observă datele din tabelul alăturat și scrie:

a. primele două orașe, după numărul de locuitori;

b. orașul situat cel mai la nord și numărul de locuitori;

c. cel mai mare oraș situat pe coasta de sud-vest;

d. numărul locuitorilor din orașul situat cel mai aproape de Insula Tasmania.

Marile orașe ale Australiei (în ordine alfabetică)

Numele orașului	Milioane locuitori
Adelaide	1,4
Brisbane	2,6
Melbourne	5,0
Perth	2,1
Sydney	5,2

VI. Pentru turismul din Australia, scrie:

a. doi factori care contribuie la dezvoltarea turismului;

b. două obiective sau regiuni turistice;

VII. Șoseaua care leagă nordul de sudul Australiei, prin partea centrală, trece prin orașele Adelaide, Alice Springs, Darwin, Port Augusta și Tennant Creek.

• Scrie, în ordine, orașele enunțate mai sus, de la nord la sud.

VIII. Pentru magistrala feroviară Indian – Pacific (Transaustralianul), scrie:

a. importanța magistralei feroviare;

b. două unități de relief pe care la străbate;

c. o apă curgătoare pe care o traversează;

d. orașele metropolă de pe traseul său.

Particularități geografice

I. Completează spațiile libere din textul de mai jos.

Oceania, cu cele peste _____ de insule, însumează o suprafață de cca 1,3 mil. km², în Oceanul _____.

Insulele și arhipelagurile din compunerea sa sunt grupate în _____ subregiuni geografice: Micronezia („insulele _____”), în nord-vest, _____ („insulele populate de locuitori cu pielea închisă la culoare”), în _____, Polinezia („insulele _____”), în centru și _____, și _____, în sud.

II. Insulele din Oceania au origini variate: continentale, coraligene și vulcanice. Analizează insulele din listă și grupează-le în funcție de modul predominant de formare.

Listă: Hawaii, Marshall, Noua Caledonie, Noua Guinee, Noua Zeelandă, Tahiti.

– continentale: _____;

– coraligene: _____;

– vulcanice: _____.

III. Stabilește valoarea de adevăr a următoarelor afirmații (**A** – adevărat, **F** – fals).

1. Punçak Jaya, cel mai înalt vârf din Oceania (5 030 m), se află în Insula Noua Guinee, pe teritoriul Indoneziei.

A / F	
<input type="checkbox"/>	<input checked="" type="checkbox"/>

2. Insulele Hawaii aparțin de Melanezia.

<input type="checkbox"/>	<input checked="" type="checkbox"/>
--------------------------	-------------------------------------

3. Insula Noua Zeelandă de sud se află în climatul ecuatorial.

<input type="checkbox"/>	<input checked="" type="checkbox"/>
--------------------------	-------------------------------------

4. Între Vanuatu și Australia se află Marea Coralilor.

<input type="checkbox"/>	<input checked="" type="checkbox"/>
--------------------------	-------------------------------------

5. Kiribati este un stat ce aparține Polineziei.

<input type="checkbox"/>	<input checked="" type="checkbox"/>
--------------------------	-------------------------------------

6. Oceania este traversată de meridianul de 180°, Polinezia fiind situată, în cea mai mare parte, în emisfera vestică.

<input type="checkbox"/>	<input checked="" type="checkbox"/>
--------------------------	-------------------------------------

7. Vulcanii Manua Loa (activ) și Manua Kea (stins) au înălțimi mai mari de 4 000 m și sunt situați în Insulele Hawaii.

<input type="checkbox"/>	<input checked="" type="checkbox"/>
--------------------------	-------------------------------------

8. Pasărea takahē nu zboară și este originară din Noua Zeelandă.

<input type="checkbox"/>	<input checked="" type="checkbox"/>
--------------------------	-------------------------------------

IV. Elaborează un text cu conținut geografic, de maximum opt-nouă rânduri, referitor la clima și biodiversitatea Oceaniei, în care să utilizezi toți termenii din lista de mai jos.

Listă: climă tropicală oceanică, climă temperată, conifere, fagi sudici, ferigi, kiwi, liane, mangrove, Noua Zeelandă, palmieri, păsări și reptile.

V. Stabilește căror grupări geografice (Melanezia, Micronezia și Polinezia) aparțin țările din listă.

Listă: Fiji, Insulele Marshall, Nauru, Palau, Papua Noua Guinee, Samoa, Tonga, Tuvalu, Vanuatu.

Melanezia: _____

_____;

Micronezia: _____

_____;

Polinezia: _____

_____.

VI. Realizează corespondența între state (**A**) și capitale (**B**).

A	B
1. Micronezia	a. Apia
2. Noua Zeelandă	b. Bairiki
3. Palau	c. Ngerulmud
4. Samoa	d. Palikir
5. Vanuatu	e. Port Vila
	f. Wellington

VII. Analizează harta alăturată (Noua Zeelandă) și scrie:

a. numele insulelor marcate cu literele:

A _____

B _____

C _____

b. numele mării marcate cu litera **a**:

c. numele strâmtorii marcate cu litera **b**:

d. numele orașelor marcate cu cifrele:

1 _____

2 _____

Noua Zeelandă



Elemente de identitate geografică

I. Completează spațiile libere din textul de mai jos.

Antarctica este regiunea polară _____, compusă din _____ (continentul propriu-zis) și teritoriile vecine (insule și suprafețe acvatice), cuprinse, în general, în interiorul Cercului _____.

Antarctida, cel mai sudic _____ al Terrei, este acoperit de o cuvertură groasă de gheață, numită _____.

II. Analizează harta de alăturată (Antarctica și unitățile acvatice mărginașe) și scrie:

a. numele oceanelor marcate cu literele:

A _____ B _____
C _____

b. numele mărilor marcate cu literele:

a _____ b _____
c _____ d _____
e _____

c. numele ghețarilor de șelf marcați cu numerele:

1 _____ 2 _____

III. Analizează harta de mai jos (Antarctida – uscatul continental) și scrie:

a. valorile, în grade, ale meridianelor marcate cu literele:

a _____ b _____

b. numele peninsulei marcate cu cifra 1;

c. numele unităților de relief marcate cu cifrele:


2 _____

3 _____

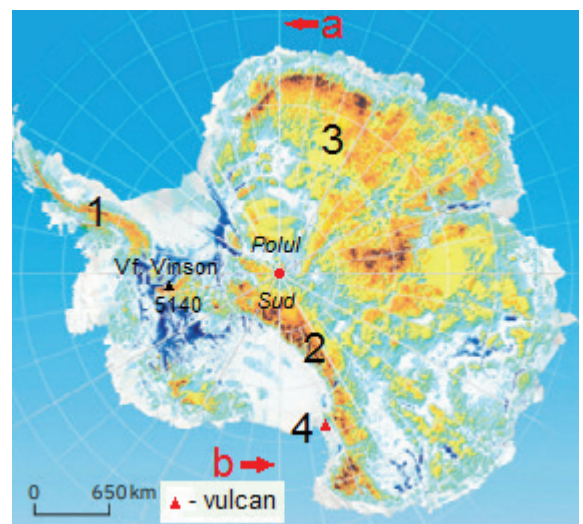
d. numele vulcanului marcat cu cifra 4;

e. numele stațiunii de cercetări situate la Polul Sud.

Antarctica și unitățile acvatice mărginașe



Antarctida – uscatul continental



IV. Elaborează un text cu conținut geografic, de șapte-opt rânduri, referitor la relieful Antarcticii, în care să utilizezi toți termenii și toate expresiile din lista de mai jos.

Listă: altitudinea medie a uscatului (2 165 m), calotă glaciară (circa 2 500 m grosimea medie), Erebus (3 794 m), Insula Ross, Munții Ellsworth, Podișul Wegener, Vârful Vinson, vulcan.

V. Observă imaginea alăturată și scrie:

a. tipul de mediu redat;

b. tipul de climă caracteristic acestui tip de mediu;

c. două specii vegetale care trăiesc în acest mediu;

d. specia faunistică din imagine.

Peisaj din Antarctica



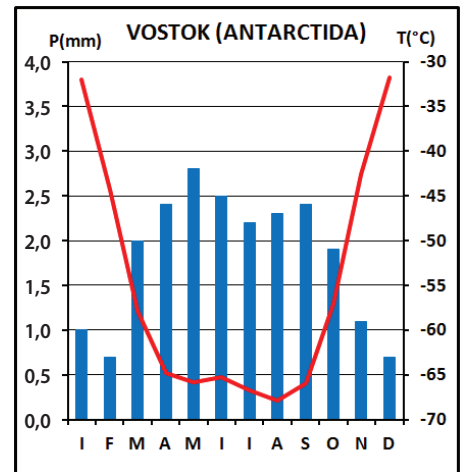
VI. Analizează diagrama climatică alăturată și scrie:

a. valoarea temperaturii minime și luna în care se produce;

b. valoarea temperaturii în luna ianuarie;

c. cea mai mare cantitate de precipitații și luna în care se înregistrează;

d. tipul de climă redat de diagramă.



VII. Observă speciile de mai jos, marcate cu litere, care trăiesc în zonele reci de pe glob. Scrie literele și numele speciilor care trăiesc în Antarctica.



VIII. În subsolul Antarcticii se găsesc resurse naturale importante: cărbuni, petrol, cupru, uraniu, sulf ș.a. Explică de ce aceste resurse naturale nu sunt exploatare în prezent.

BIBLIOGRAFIE

Anastasiu Viorela, Ioniță Ovidiu, Dumitru Dan: *Atlas geografic mondial*, Edit. Didactică și Pedagogică, București, 2017.

Fiscutean Mihaela, Fiscutean Dorin, Mihai Ciprian, Popa Ionela, Holic Valentina: *Geografie. Manual pentru clasa a VII-a*, Edit. Avantgarde Center, București, 2019.

Lungu Marius: *Atlas geografic general*, Edit. Carta Atlas, Constanța, 2017.

Mărculeț Ioan: *Geografie – continentele extraeuropene. Caietul elevului pentru clasa a VII-a (pentru uz intern)*, ISBN 978-973-0-31438-0, București, 2020.

Mărculeț Ioan, Mărculeț Cătălina: *Geografie – mapă cu fișe pentru capitulare clasele a VI-a și a VII-a*, ISBN 978-973-0-31994-1, București, 2020.

Mărculeț Ioan (coordonator) *Terra – mediile naturale (aspecte fizico-geografice)*, ISBN 978-973-0-34655-8, București, 2021.

Mărculeț Ioan, Lungu Marius: *Geografie – continentele extraeuropene. Caiet pentru uz școlar, clasa a VI-a*, Edit. Carta Atlas, Năvodari, 2022.

Mândruț Octavian: *Atlas geografic școlar*, Edit. Corint, București, 2008.

Neacșu Marius-Cristian: *Geografie. Manual pentru clasa a VII-a*, Edit. CD. Press, București, 2019.

Neguț Silviu, Rădulescu Carmen-Camelia, Popa Ionuț: *Geografie – clasa a VII-a*, Edit. Art Klett, București, 2019.

Popescu Manuela: *Atlas școlar de geografie*, Edit. Aramis, București, 2019.

<http://www.lspvs.ro/siteuri/geografie/harti%202.html>